

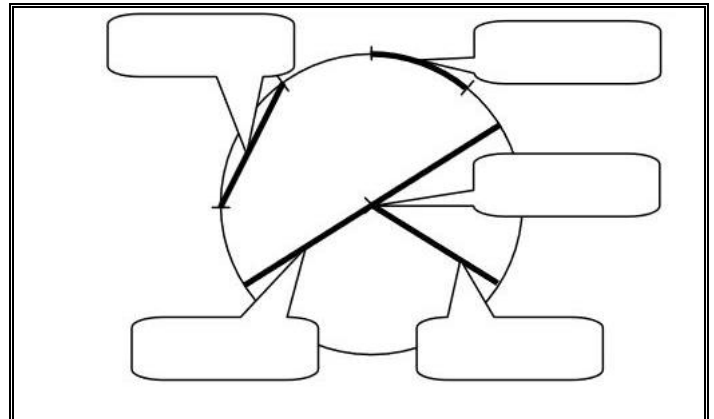


Préparation à l'interrogation : Cercle

Ce que je dois savoir ...	Oui	Non
1 -> Connaître le vocabulaire sur le cercle (Ex n°1)		
2 -> Tracer un cercle. (Ex n°2)		
3 -> Rédiger un programme de construction. (Ex n°3)		
Commentaire :		

Exercice n°1 : Compléter les étiquettes de la figure ci-contre avec les mots proposés :

centre - rayon - diamètre - corde - arc



Exercice n°2 : Sur la figure ci-dessous, tracer :

- 1) Le cercle (C_1) de centre A et de rayon 3,3 cm.
- 2) Le cercle (C_2) de centre K et de rayon [KB].
- 3) Le cercle (C_3) de centre L et de diamètre 5,2 cm.
- 4) Le cercle (C_4) de diamètre [NT].
- 5) Le cercle (C_5) de centre Y et de rayon KB.



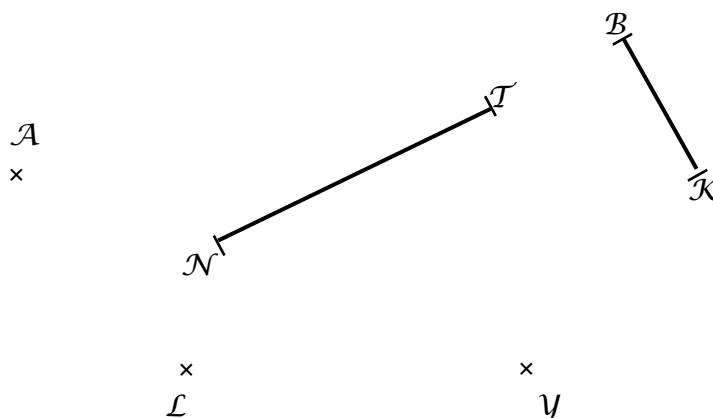
Besoin d'aide pour tracer un cercle ?

Scannez les QR Codes.

Ou cliquez sur les liens suivants :

<https://youtu.be/1JCV2leVt1E>

<https://youtu.be/FWJq?list=PLA2...>



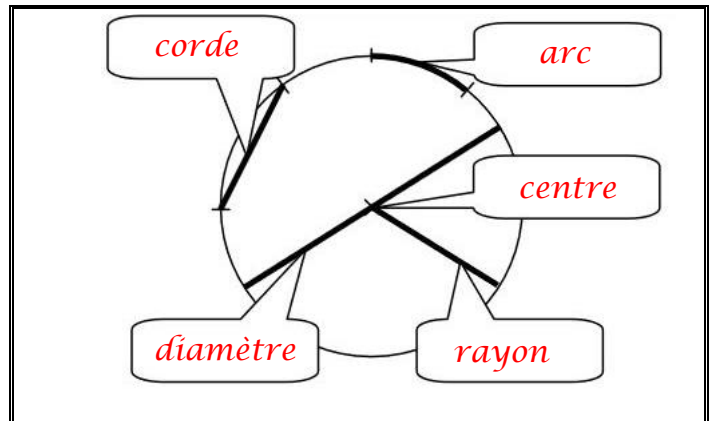


Préparation à l'interrogation : Cercle

Correction

Exercice n°1 : Compléter les étiquettes de la figure ci-contre avec les mots proposés :

centre – rayon – diamètre – corde – arc



Exercice n°2 : Sur la figure ci-dessous, tracer :

- 1) Le cercle (C_1) de centre A et de rayon 3,3 cm.
- 2) Le cercle (C_2) de centre K et de rayon [KB].
- 3) Le cercle (C_3) de centre L et de diamètre 5,2 cm.
- 4) Le cercle (C_4) de diamètre [NT].
- 5) Le cercle (C_5) de centre Y et de rayon KB.

