



Exercice n°1 : Construire en vraie grandeur les triangles suivants.

Le carré $ABCD$ de côté $5,6$ cm.

Le carré $EFGH$ telles que les diagonales mesurent 4 cm.

Le rectangle $IJKL$ tel que $IJ = 9,2$ cm et $JK = 3$ cm.

Le rectangle $MNOP$ telles que les diagonales mesurent $3,7$ cm.

Le rectangle $QRST$ tel que $TS = 7,4$ cm et $QS = 7,7$ cm.

Le losange $UVWX$ de côtés $4,8$ cm.

Le losange $YZTV$ tel que $YZ = 3,3$ cm et $YT = 6,4$ cm.

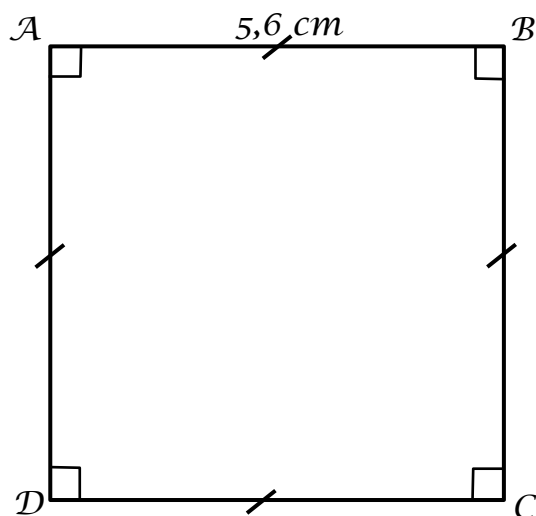
Le losange $KILM$ tel que $ML = 7,8$ cm et $KL = 3$ cm.



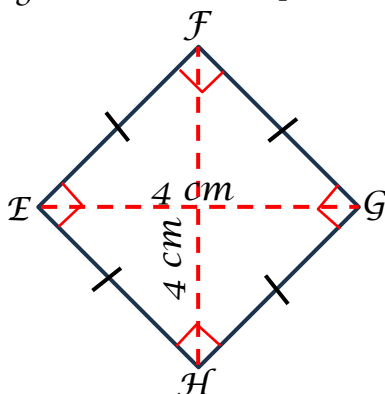
Correction

Exercice n°1 : Construire en vraie grandeur les quadrilatères suivants.

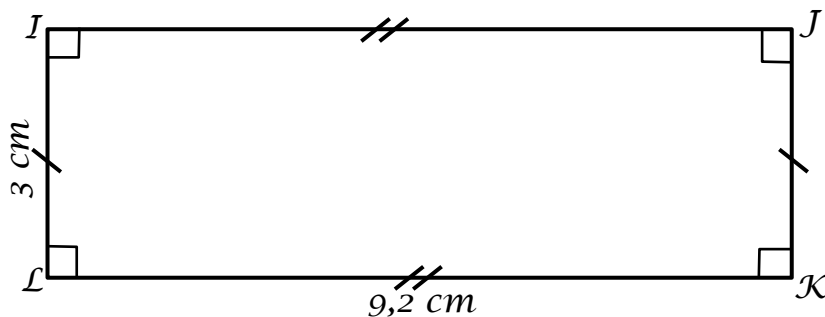
Le carré $ABCD$ de côté $5,6\text{ cm}$.



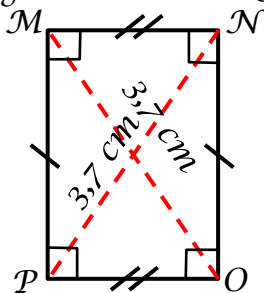
Le carré $EFGH$ telles que les diagonales mesurent 4 cm .



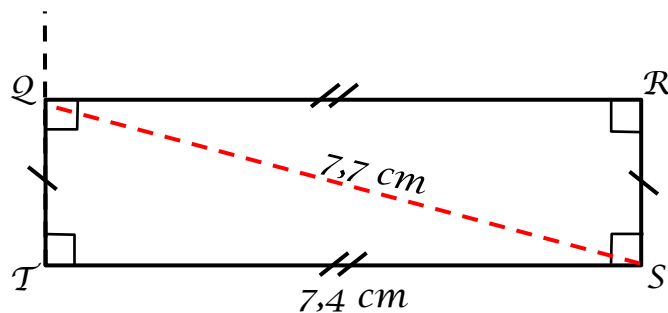
Le rectangle $IJKL$ tel que $IJ = 9,2\text{ cm}$ et $JK = 3\text{ cm}$.



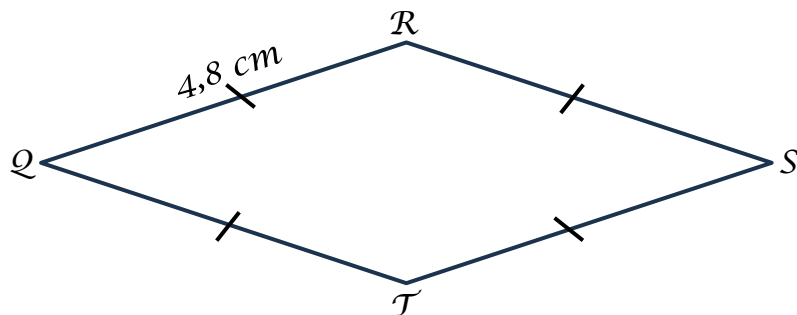
Le rectangle $MNOP$ telles que les diagonales mesurent $3,7\text{ cm}$.



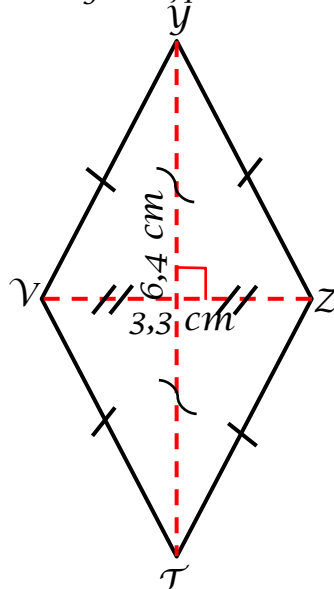
Le rectangle $QRST$ tel que $TS = 7,4 \text{ cm}$ et $QS = 7,7 \text{ cm}$.



Le losange $UVWX$ de côtés $4,8 \text{ cm}$.



Le losange $YZTV$ tel que $YZ = 3,3 \text{ cm}$ et $YT = 6,4 \text{ cm}$.



Le losange $KILM$ tel que $ML = 7,8 \text{ cm}$ et $KL = 3 \text{ cm}$.

