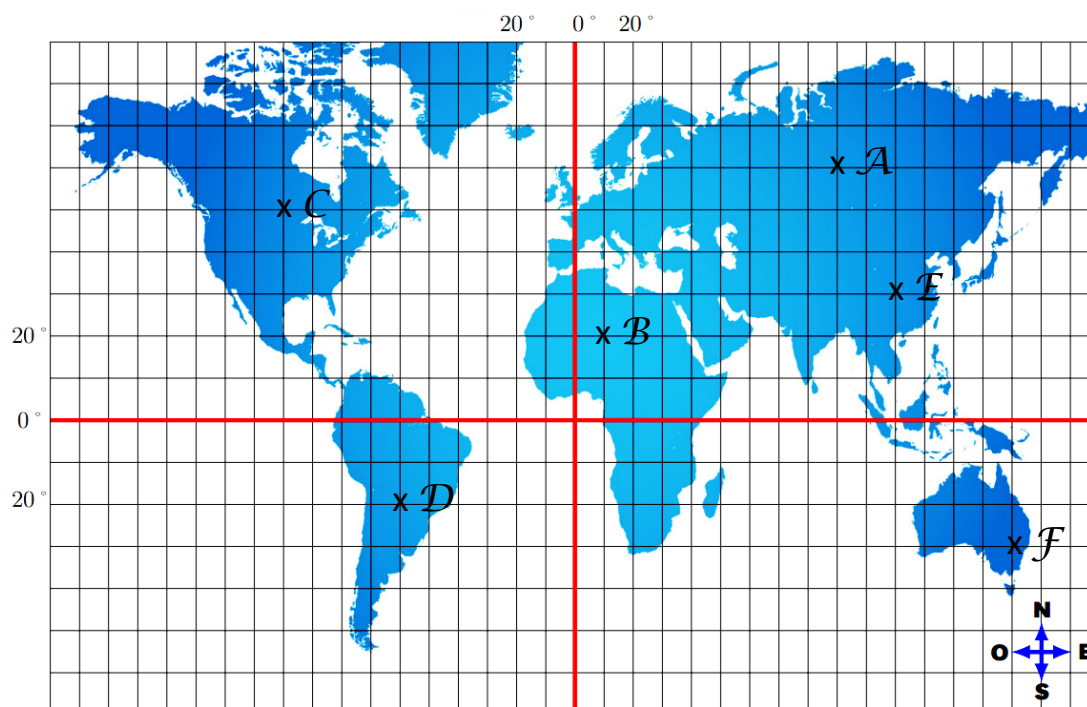




**Exercice n°1 :** Donner les coordonnées des points A, B, C, D, E et F se trouvant sur le planisphère suivant.



**Exercice n°2 :** Placer les points suivants sur le planisphère ci-dessous.

A(50°S ; 70°O )

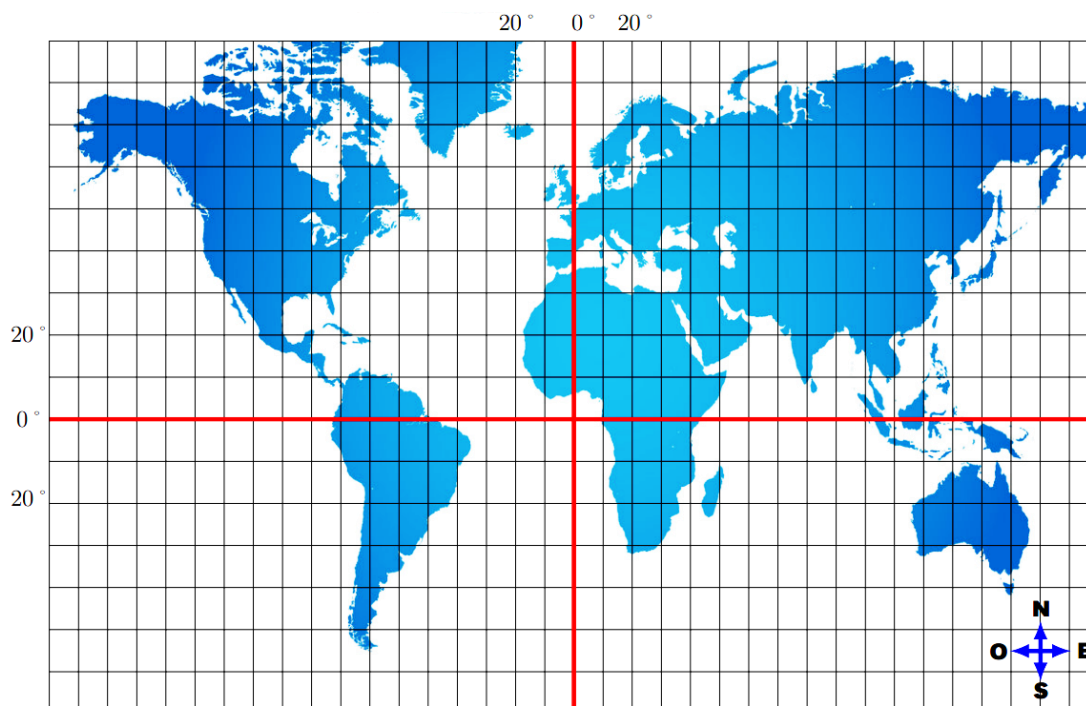
B(80°N ; 100°E )

C(10°N ; 20°O )

D(30°S ; 90°O )

E(20°S ; 50°E)

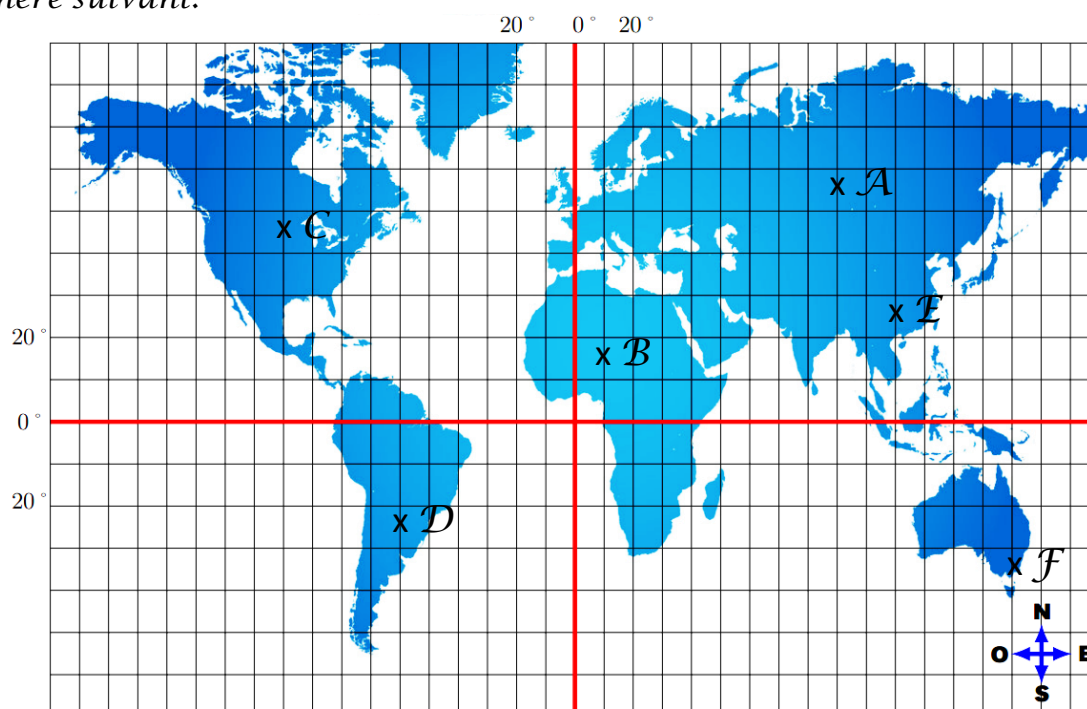
F(40°N ; 40°E)





**Correction**

**Exercice n°1 :** Donner les coordonnées des points A, B, C, D, E et F se trouvant sur le planisphère suivant.



**A**(60°N ; 90°E )

**B**(20°N ; 10°E )

**C**(50°N ; 100°O )

**D**(20°S ; 60°O )

**E**(30°N ; 110°E)

**F**(30°S ; 150°E)

**Exercice n°2 :** Placer les points suivants sur le planisphère ci-dessous.

**A**(50°S ; 70°O )

**B**(80°N ; 100°E )

**C**(10°N ; 20°O )

**D**(30°S ; 90°O )

**E**(20°S ; 50°E)

**F**(40°N ; 40°E)

